

$$7 + 12 =$$

$$0 + 65 =$$

$$14 - 9 =$$

$$8 + 23 =$$

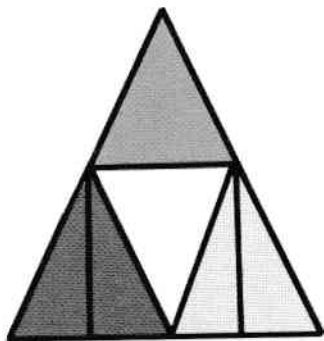



$$13 - 5 =$$



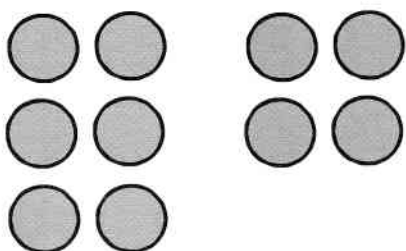
ÎNVĂȚĂTE MATE

de Mara Neacsu





$$= 2$$



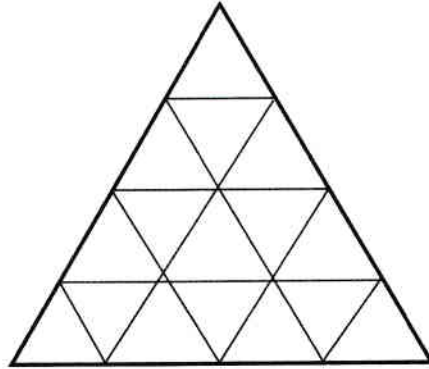
$$7 > 4$$

$$5 < 9$$

Figuri geometrice.....	3
Triunghiul	3
Cercul	4
Pătratul	5
Măsurări	6
Cifra 0	7
Cifra 1	8
Cifra 2	9
Cifra 3	10
Cifra 4	11
Cifra 5	12
Cifra 6	13
Cifra 7	14
Cifra 8	15
Cifra 9	16
Numărul 10	17
Adunarea și scăderea numerelor naturale de la 0 la 10	18
Adunarea și scăderea cu 0 și 1	18
Adunarea și scăderea cu 2, 3 și 4	19
Adunarea și scăderea cu 5, 6 și 7	20
Adunarea și scăderea cu 8, 9 și 10	21
Numerele naturale de la 0 la 30. Scriere, comparare și ordonare	22
Adunarea și scăderea numerelor de la 0 la 30, fără trecere peste ordin	24
Numerele naturale de la 0 la 100. Scriere, comparare și ordonare	26

Triunghiul

1. Câte triunghiuri sunt în imaginea de mai jos?



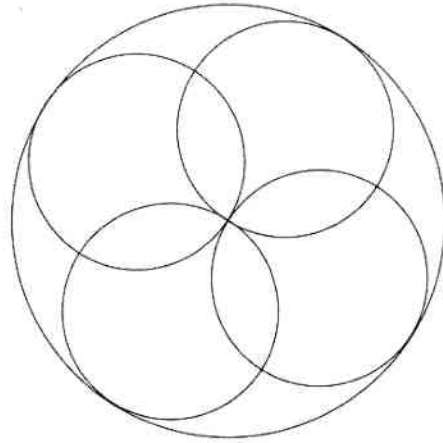
2. Găsește triunghiuri în imaginile următoare:



3. Continuă după model:



1. Câte cercuri vezi în imaginea de mai jos?




2. Găsește cercuri în imaginile de mai jos:




3. Continuă după model:



1. Câte pătrate sunt în imaginea de mai jos?



2. Găsește pătrate în imaginile de mai jos:



3. Continuă după model:

